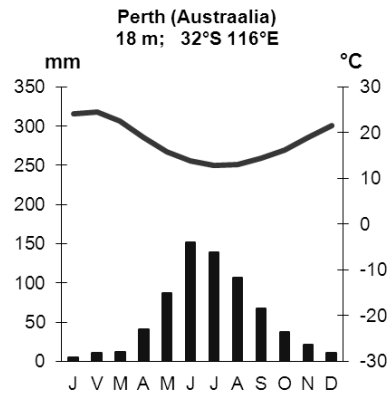
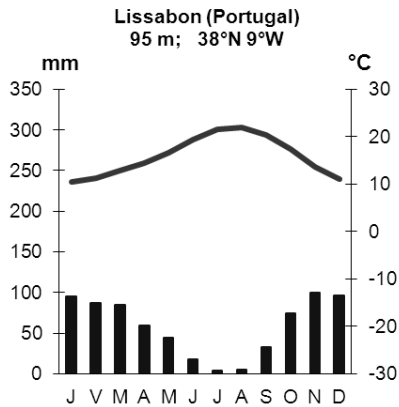


Имя и фамилия ученика _____

Школа _____ Учитель географии _____

1. Ответь на вопросы на основе климатических диаграмм.



Лиссабон (Португалия) м Перт (Австралия) мм ЯФМАМИИАСОНД

Чем сходен климат Лиссабона и Перта?

- 1)
- 2)
- 3)

4 б

Почему?

Чем различаются климаты Лиссабона и Перта?

- 1)
- 2)

4 б

Почему?

2. Распредели перечисленные характеристики между Лиссабоном и Пертом, записав буквы характеристик рядом с названием города.

- А) В полдень солнце светит с юга. В) В полдень солнце светит с севера. С) Случаются сильные землетрясения.. D) Солнце встает на востоке и садится на западе. E) Солнце встает на западе и садится на востоке. F) Сбор винограда длится с февраля по март; G) Расположен в устье полноводной реки.

7 б

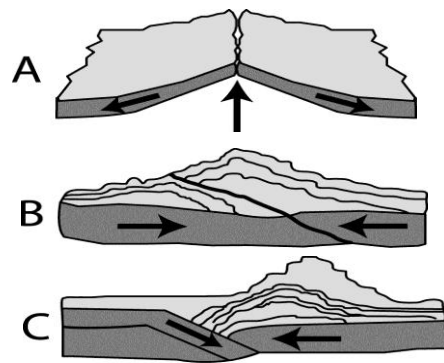
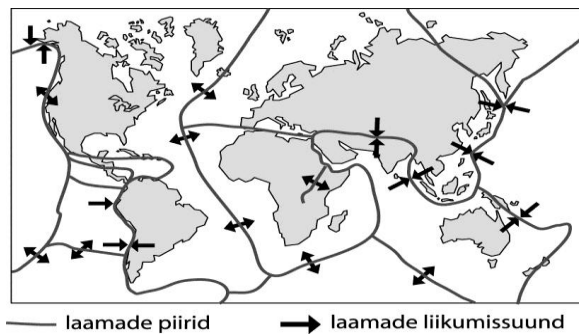
Лиссабон Перт

3. Если тебе нужно было бы удалиться от Таллинна на максимальное расстояние, то куда бы ты поехал? Обоснуй свой ответ.

.....
.....

2 б

4. Рисунки (А, В и С) поясняют возникновение Анд, Исландии и Гималаев. Какой рисунок чему соответствует? Почему?



Возникновение Анд поясняет рисунок, так как 2 б

Возникновение Исландии поясняет рисунок, так как..... 2 б

Возникновение Гималаев поясняет рисунок, так как 2 б

5. А) Почему в Андах много действующих вулканов, а в Гималаях их нет? 2 б

В) Почему в Гималаях на высоте 4000 м встречаются окаменелые морские организмы? 2 б

С) Почему в центральной части Исландии горные породы моложе, чем на восточном и западном побережьях? 2 б

6. Сравни распределение населения в Швеции и Алжира. Укажи основные причины сходств и различий. 6 б

Сходство / различие	Причина

5 б

7. Напиши на соответствующие места фотографии десять географических терминов.



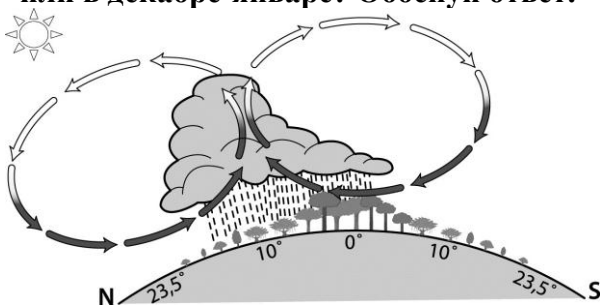
Где сделано это фото? Обоснуй свой выбор.

2 б

Фото сделано: А) на Баффиновой Земле, В) в Бутане; С) на полуострове Таймыр

Обоснование:
.....
.....

8. Когда наблюдается ситуация, изображенная на этом рисунке: в апреле–июне или в декабре–январе? Обоснуй ответ.



.....
.....
.....
.....

2 б

Охарактеризуй погоду в субэкваториальном поясе Южного полушария в период, показанный на картинке.

.....
.....
.....

2 б

9. Самолет вылетел из города с координатами 33°S 71°W и приземлился в городе с координатами 15°S 52°W.

Из какого города вылетел самолет?

1 б

Охарактеризуй расположение этого города.

2 б

.....

1 б

В каком городе приземлился самолет?

1 б

В какой природной зоне приземлился самолет?

1 б

Каково расстояние между городами?

10. Назови как можно точнее область Земли, где сегодня, 16 ноября, полярная ночь.

2 б

.....

11. В Таллинне 16 ноября, на часах 12.00. Какой день и время в этот момент в Боготе?

2 б

.....

12. В какой природной зоне сделаны эти фотографии?

2 б

.....



Что изображено на картинках?

2 б

.....
.....
.....
.....

ВСЕГО 60 БАЛЛОВ